

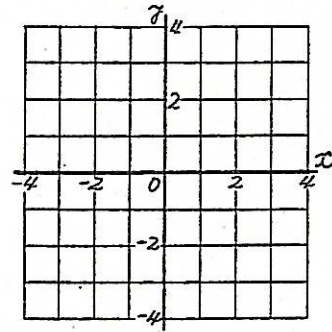
3. 表からグラフをつくる練習(正比例)

組名 \_\_\_\_\_

◎ 表をみて、点(座標)をかきこみなさい。グラフにきなさい。

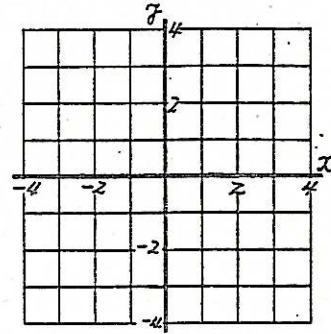
(1) 

x	-2	-1	0	1	2
y	-4	-2	0	2	4



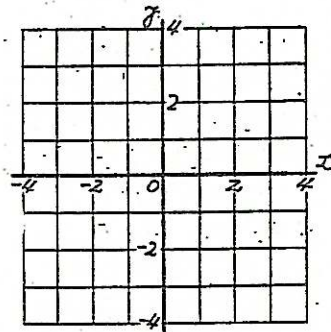
(2) 

x	-2	-1	0	1	2
y	2	1	0	-1	-2



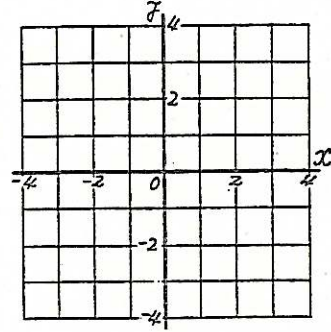
(3) 

x	-2	-1	0	1	2
y	-6	-3	0	3	6



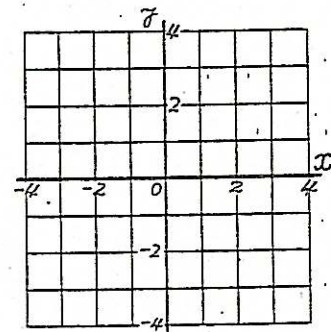
(4) 

x	-2	-1	0	1	2
y	1	1/2	0	-1/2	-1



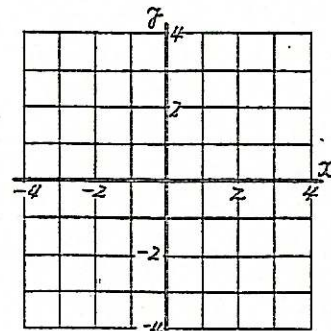
(5) 

x	-3	-2	-1	0	1	2	3
y	-2	-4/3	-2/3	0	2/3	4/3	2



(6) 

x	-4	-2	0	2	4
y	3	3/2	0	-3/2	-3



\* (4)~(6)は、すべての座標がかけかわりではありません。

4. グラフから表をつくる練習

組名 \_\_\_\_\_

◎ グラフをみて、座標をよみ( , )にかきなさい。3つ書きなさい。

